

Even opfrissen

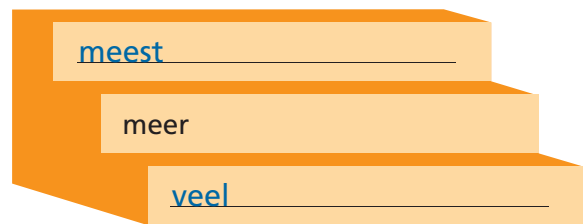
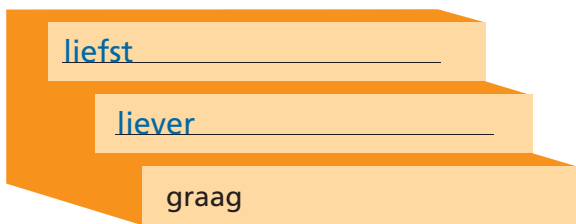
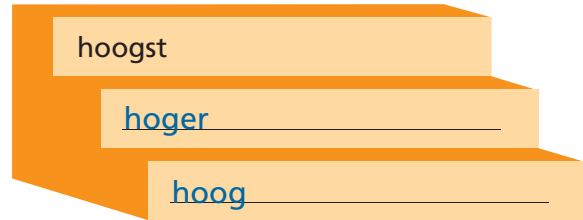
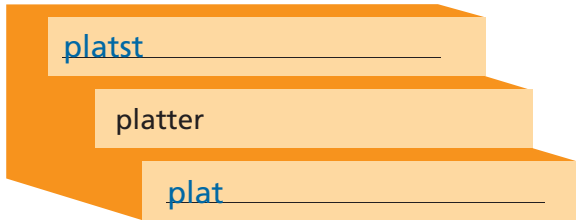
Naam: _____

Klas: _____ Datum: _____

1 De trappen van vergelijking invullen

11

Vul de ontbrekende trappen in.

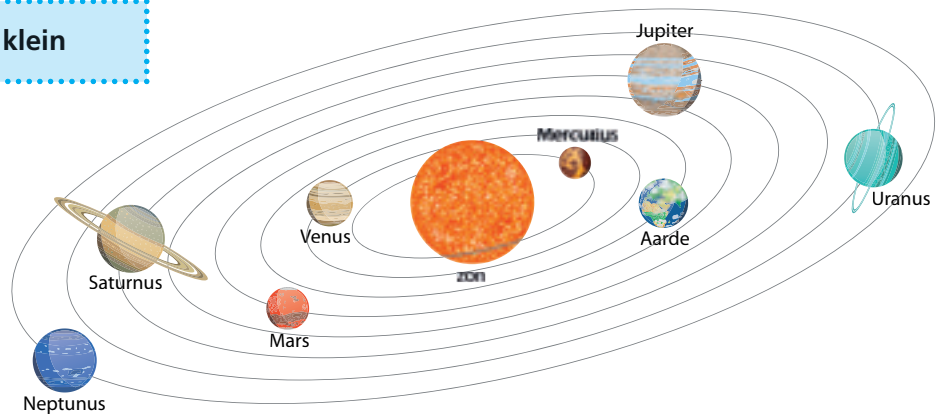


2 De trappen van vergelijking gebruiken

11

- Bekijk de prent van het zonnestelsel.
- Noteer drie zinnen over de prent.
- Gebruik in elke zin de trappen van vergelijking.
- Kies uit deze bijvoeglijke naamwoorden:

ver – groot – dicht – klein



eigen antwoord, bv.

zin 1: Mars ligt ver van de zon, maar Neptunus ligt nog verder.

zin 2: Uranus is groot, maar Jupiter is het grootste.

zin 3: Mercurius ligt het dichtst bij de zon.

Hoe deed ik het?



Ik denk



Juf/Meester vindt